


Anhang

Fußgängerdiplom

Theoretischer Test


Fußgängerdiplom

1. Male alles was sich nach links bewegt rot und was sich nach rechts bewegt blau an.




/6

2. Male nur die Kinder an, die sich richtig verhalten.



/7

3. Male aus.




/2

4. Male mit Farben an, die in der Dunkelheit gut zu erkennen sind.



/3

5. Male die Verkehrszeichen mit den richtigen Farben an.



/3

Du hast _____ von 21 Punkten erreicht.